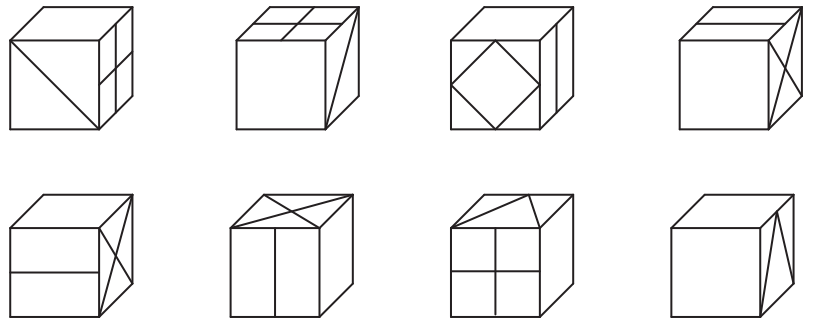
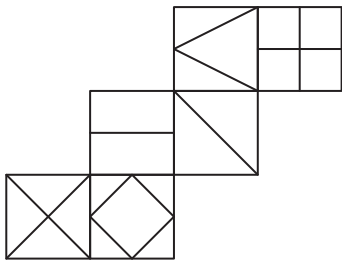
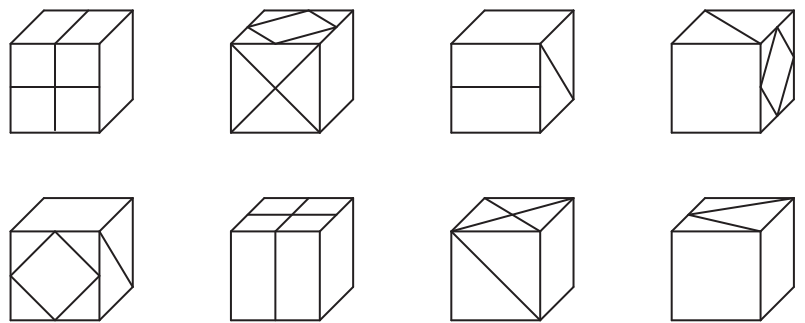
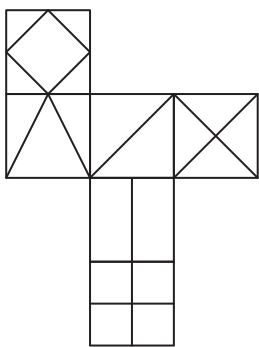


Die rechts abgebildeten Würfel passen jeweils alle zum Netz links. Ergänze die fehlenden Symbole.

1

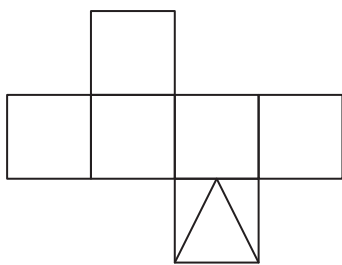


2

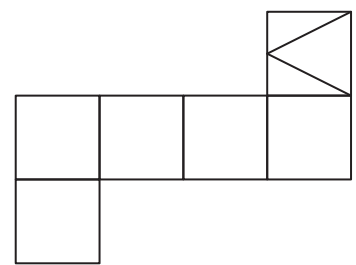


Links sind jeweils drei Ansichten eines Würfels gegeben. Ergänze die fehlenden Symbole im Netz.

3



4



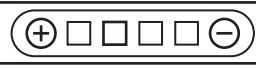
Eine der vier Ansichten eines Würfels ist unvollständig. Ergänze das fehlende Symbol.

5



6





Die rechts abgebildeten Würfel passen jeweils alle zum Netz links. Ergänze die fehlenden Symbole.

**1**

**2**

Links sind jeweils drei Ansichten eines Würfels gegeben. Ergänze die fehlenden Symbole im Netz.

**3**

**4**

Eine der drei Ansichten eines Würfels ist unvollständig. Ergänze das fehlende Symbol.

**5**

**6**